


主 題 3 特殊的平行四邊形

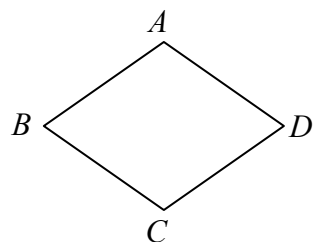
【觀念一】長方形(矩形)

- (1)四個內角都是_____的四邊形
 (2)長方形的對角線互相_____且_____



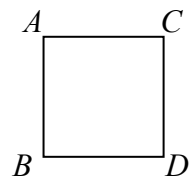
【觀念二】菱形

- (1)四邊_____的四邊形
 (2)菱形的對角線互相_____且_____
 (3)菱形兩對角線會_____其對角
 (4)菱形的面積=_____

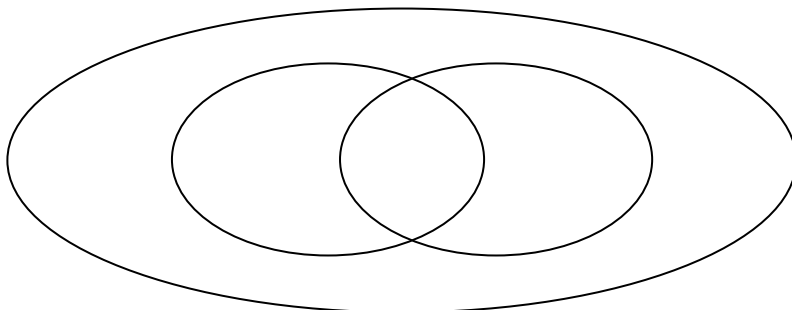


【觀念三】正方形

- (1)四邊_____且四內角都是_____的四邊形
 (2)正方形的對角線互相_____且_____且_____



【觀念四】包含關係



【觀念五】綜合比較

性質	圖形	平行四邊形	長方形	菱形	正方形
邊的關係	兩組對邊互相平行				
	兩組對邊相等				
	四邊相等				
角的關係	兩組對角相等				
	四角相等				
對角線的關係	對角線互相平分				
	對角線相等				
	對角線互相垂直				