

# 主題 8 時鐘問題

## 【觀念】

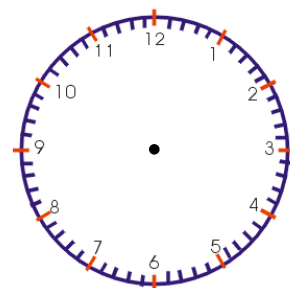
(1)一周=\_\_\_\_\_

(2)時鐘分成 12 大格，60 小格

⇒ 1 大格=\_\_\_\_\_，1 小格=\_\_\_\_\_

(3)分針(長針)：\_\_\_\_\_

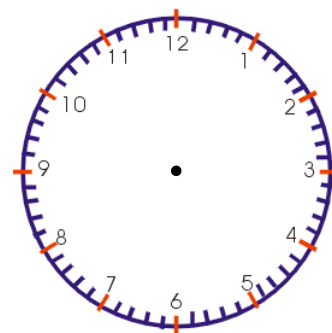
(4)時針(短針)：\_\_\_\_\_



例 1. 試問在 4 點到 5 點之間

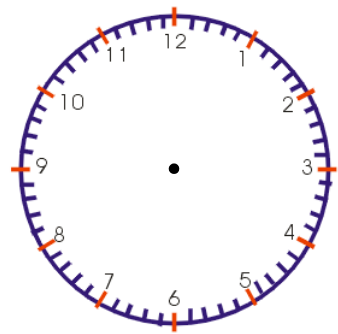
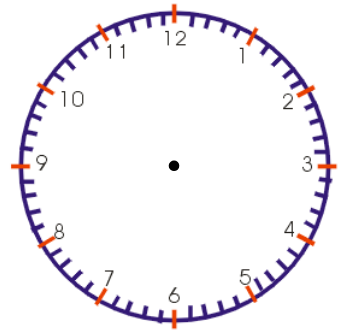
(1)時針與分針何時重合？

**解：**



(2)時針與分針何時成直角？

解：



(3)時針與分針何時成一直線？

解：

